

# ВОПРОСЫ ЭКЗАМЕНА ПО ПРАВИЛАМ ДОРОЖНОГО ДВИЖЕНИЯ

## Основные понятия и термины ПДД

### 1. Каким правилам подчиняется человек, ведущий велосипед?

1. Правилам для водителей.
2. Правилам для пешеходов.

### 2. Какие лица Правилами отнесены к «участникам дорожного движения»?

1. Пешеходы.
2. Дорожные рабочие, водители, пассажиры.
3. Водители, пешеходы, пассажиры.
4. Все перечисленные лица.

### 3. Какими правилами должен руководствоваться человек, везущий ручную тележку?

1. Правилами для водителей.
2. Правилами для пешеходов.

### 4. Относится ли мопед к «механическим транспортным средствам»?

1. Относится.
2. Не относится.


### 5. Значение термина «велосипед»:

1. Двухколесное транспортное средство без мотора для взрослых и детей.
2. Двух- или трехколесное транспортное средство для детей и взрослых.
3. Транспортное средство, кроме инвалидных колясок, имеющее два колеса и более и приводимое в движение мускульной силой людей, находящихся на нем.

### 6. Что означает термин «темное время суток»?

1. Вечернее и ночное время.
2. Время с 21.00 до 7.00.
3. Промежуток времени от конца вечерних сумерек до начала утренних сумерек.

### 7. На каком рисунке человека можно назвать «пешеходом»?

- |    |   |    |   |    |   |                          |
|----|---|----|---|----|---|--------------------------|
| 1. |   | 3. |   | 5. |   | 1. На 1,2,3,4,6.         |
| 2. |  | 4. |  | 6. |  | 2. На всех рисунках.     |
|    |   |    |   |    |   | 3. На рисунках 2,4 и 6.  |
|    |   |    |   |    |   | 4. На рисунках 4, 5 и 6. |

### 8. Что означает термин «дорога»?

1. Полоса земли, отведенная для движения транспортных средств и пешеходов.
2. Полоса земли, имеющая дорожное покрытие.
3. Полоса земли либо поверхность искусственного сооружения, обустроенная или приспособленная и используемая для движения транспортных средств, включающая в себя проезжие части, трамвайные пути, тротуары, обочины и разделительные полосы.

### 9. На каком рисунке изображено «механическое транспортное средство»?

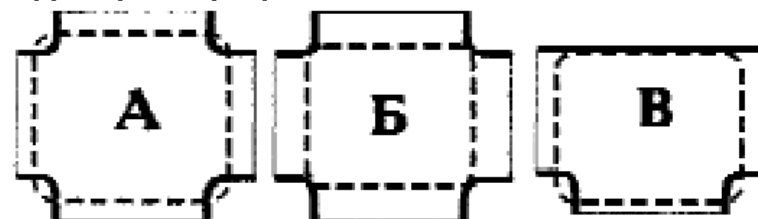


1. На 1.
2. На 1 и 2.
3. На всех рисунках.

### 10. Кто называется водителем?

1. Лицо, управляющее инвалидной коляской без двигателя.
2. Лицо, управляющее каким-либо транспортным средством.
3. Лицо, ведущее велосипед.

### 11. На каком рисунке пунктирной линией верно обозначена территория перекрестка?



1. А.
2. Б.
3. А, В.

### 12. Что означает термин «проезжая часть»?

1. Расстояние между зданиями, включая и тротуары.
2. Часть дороги, предназначенная для движения всех участников дорожного движения.
3. Элемент дороги, предназначенный для движения безрельсовых транспортных средств.

### 13. Значение термина «населенный пункт»:

1. Жилые здания и хозяйственные постройки, объединенные одной территорией.
2. Застроенная территория, через которую проходит автомагистраль.
3. Застроенная территория, въезды на которую и выезды с которой обозначены знаками «Начало населенного пункта» и «Конец населенного пункта».

**14. Что означает термин «недостаточная видимость»?**

1. Видимость дороги менее 10 м в темное время суток.
2. Дождь, снегопад, сумерки.
3. Видимость дороги менее 300 м в условиях тумана, дождя, снегопада, а также в сумерки.

**15. «Недостаточная видимость» — это:**

1. Промежуток времени от конца вечерних сумерек до начала утренних сумерек.
2. Видимость менее 150 м.
3. Видимость дороги менее 300 м в условиях тумана, дождя, снегопада и т. п., а также в сумерки.
4. Дождь, снегопад, сумерки.

**16. Что такое обгон?**

1. опережение одного или нескольких движущихся транспортных средств, связанное с выездом из занимаемой полосы.
2. опережение одного или нескольких транспортных средств, связанное с выездом на полосу встречного движения и последующим возвращением на ранее занимаемую полосу.
3. опережение одного или нескольких транспортных средств, движущихся в соседнем ряду с меньшей скоростью.

**17. Какое значение имеет термин «перекресток»?**

1. Пересечение дороги с железнодорожными путями.
2. Пересечение двух дорог.
3. Место пересечения, примыкания или разветвления дорог на одном уровне, ограниченное воображаемыми линиями, соединяющими соответственно противоположные, наиболее удаленные от центра перекрестка начала закруглений проезжих частей.

**18. Считается ли перекрестком выезд на дорогу с автозаправочной станции?**

1. Не считается.
2. Считается.

**19. К маршрутным транспортным средствам относятся:**

1. Автобусы и маршрутные такси.
2. Трамваи, троллейбусы и автобусы, движущиеся по установленным маршрутам с обозначенными остановками.
3. Автобусы, троллейбусы, трамваи и маршрутные такси.

**20. Что называется остановочным путем?**

1. Расстояние, пройденное автомобилем с момента обнаружения водителем опасности до начала торможения.
2. Расстояние, пройденное автомобилем с момента обнаружения водителем опасности до остановки.

**22. От чего зависит длина тормозного пути?**

1. От массы автомобиля.
2. От скорости автомобиля.
3. От состояния дороги.
4. От всех вышеперечисленных причин.

**Права, обязанности и ответственность участников дорожного движения**

**23. Если велосипедист нарушил Правила дорожного движения, инспектор ДПС имеет право:**

1. Предупредить нарушителя.
2. Оштрафовать нарушителя.
3. Применить любую из этих санкций.

**24. Пешеход переходит дорогу в неполюженном месте. Сотрудник ГИБДД не имеет права:**

1. Остановить и предупредить его.
2. Оштрафовать нарушителя.
3. Арестовать нарушителя.

**25. Какую ответственность несет виновник ДТП, если при этом погиб человек?**

1. Никакой.
2. Административную ответственность.
3. Уголовную ответственность.

**26. Как могут наказать человека, который портит дорожные знаки?**

1. Никак.
2. Оштрафовать.
3. Посадить в тюрьму.

### Дорожные знаки и дополнительные средства информации

**27. Что означает этот знак?**



1. Такого дорожного знака не существует.
2. Указывает место, где запрещено движение пешеходов.
3. Предупреждает водителей о приближении к пешеходному переходу.

**28. С какой стороны наибольшая вероятность появления пересекающего дорогу автомобиля, если перед перекрестком установлен такой знак?**



1. Справа.
2. Слева.
3. С любой стороны.



**29. Какое значение для водителя велосипеда или мопеда имеет этот знак с табличкой?**

1. Запрещено движение днем.
2. Запрещено движение с зажженной фарой.
3. Запрещено движение по субботним, воскресным и праздничным дням.



**30. Какое значение для водителя велосипеда или мопеда имеет этот знак с табличкой?**

1. Въезд запрещен.
2. Запрещено движение налево и направо.
3. Движение запрещено.

**31. Какой из этих знаков обозначает место, где можно переходить дорогу?**



1. Знак № 1.
2. Знак № 2.
3. Оба знака.



32. Имеет ли право водитель велосипеда проезжать под этот знак?

1. Не имеет права.
2. Имеет право.

33. Под какой из знаков водитель мопеда не имеет права проезжать?

А.



Б.



1. А.
2. Б.
3. А и Б.

34. Какой из этих знаков предупреждает о приближении к железнодорожному переезду без шлагбаума?

1.



2.



1. Знак № 1.
2. Знак № 2.



35. Имеет ли право водитель мопеда проезжать за этот знак?

1. Имеет право.
2. Не имеет права.



36. Что означает этот знак?

1. «Пешеходный переход».
2. «Движение пешеходов запрещено».
3. «Пешеходная дорожка».



37. Имеет ли право велосипедист проезжать под этот знак, если он живет на этой улице?


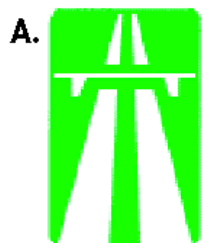
1. Имеет право.
2. Не имеет права. Он должен сойти с велосипеда и вести его в руках.



38. Разрешено ли водителю мопеда выезжать на дорогу, обозначенную этим знаком?

1. Не разрешено.
2. Разрешено.

39. Какими буквами обозначены знаки, запрещающие движение на велосипедах?



1. А.
2. А и В.
3. Б и В.
4. А, Б, В.

40. Разрешается ли движение на велосипедах по дороге, обозначенной знаком «Автомагистраль»?

1. Не разрешается.
2. Разрешается не далее метра от правого края проезжей части.

41. Какой знак обозначает дорогу с односторонним движением?



1. На всех рисунках.
2. Только на рис. 2.
3. На 1 и 2.
4. Только на 3.

42. Какой знак называется «Пешеходная дорожка»?



- 1.
- 2.
- 3.
- 4.



43. Этот дорожный знак обозначает:

1. Полосу для движения маршрутных транспортных средств.
2. Место остановки автобуса и (или) троллейбуса.
3. Дорогу, предназначенную только для движения автобусов.



44. Этот знак:

1. Разрешает объезд препятствия слева.
2. Обозначает выезд на дорогу с односторонним движением.
3. Разрешает движение только налево.

45. Какой знак относится к группе запрещающих?



1. А и В.
2. Б.
3. Все.



46. Этот дорожный знак информирует:

1. Об участке дороги, на котором возможен выброс гравия, щебня и т.п. из-под колес транспортных средств.
2. Об участке дороги, где возможно разбрызгивание грязи.

47. Какие знаки предупреждают о приближении к опасному повороту дороги?



1. Знаки 2 и 5.
2. Знаки 2 и 3.
3. Знаки 2, 3, и 5.
4. Знаки 1 и 4.
5. Знак 2.



48. Данный знак обозначает:

1. Движение велосипедисту направо запрещено.
2. Движение велосипедисту запрещено, кроме поворота направо.
3. Движение на велосипедах запрещено.



49. В каком ответе наиболее полно отражено назначение информационно-указательных знаков?

1. Устанавливают очередность проезда перекрестков, пересечений проезжих частей или узких участков дороги.
2. Вводят или отменяют определенные режимы движения, а также информируют о расположении населенных пунктов и других объектов.
3. Вводят или отменяют определенные ограничения движения.
4. Уточняют или ограничивают значения знаков, с которыми они применяются.
5. Информировать водителей о приближении к участку дороги, движение по которому требует особого внимания.

50. Какой знак применяется для обозначения жилой зоны?



1. Только 3.
2. Только 1.
3. Только 2.
4. Только 2 и 3.



51. Как поступить велосипедисту, если перед перекрестком установлен этот знак?

1. Если нет машин, проехать перекресток без остановки.
2. При проезде перекрестка быть особенно внимательным.
3. Остановиться у стоп-линии, а если ее нет — перед краем пересекаемой проезжей части, и уступить дорогу транспортным средствам, движущимся по пересекаемой дороге.

52. Может ли здесь водитель поставить мотоцикл на стоянку?




1. Да.
2. Нет.



53. Табличка под знаком обозначает:

1. Зону действия знака.
2. Расстояние до подземного пешеходного перехода.
3. Здесь подземный пешеходный переход.



54. К какой группе дорожных знаков относится данный знак?

1. Информационно-указательных.
2. Предупреждающих.
3. Предписывающих.
4. Сервиса.



55. К какой группе относится этот знак?

1. Предписывающих.
2. Информационно-указательных.
3. Предупреждающих.

56. Какой знак устанавливается непосредственно перед пешеходным переходом?



1.



2.



3.

1. Знак № 1.
2. Знак № 2.
3. Знак № 3.



57. Какой знак называется «Пересечение с велосипедной дорожкой»?



1.



2.



3.

1. Знак № 1.
2. Знак № 2.
3. Знак № 3.



58. Этот дорожный знак обозначает:

1. Участок дороги, не имеющий тротуара или пешеходной дорожки.
2. Участок дороги, на котором впереди имеется пешеходный переход.
3. Участок дороги, на котором имеется тротуар или пешеходная дорожка.



59. Этот дорожный знак предупреждает, что впереди:

1. Участок дороги, временно используемый для проведения спортивных соревнований.
2. Участок дороги вблизи детского учреждения, где возможно появление детей.
3. Пешеходный переход.



60. Этот дорожный знак обозначает:

1. Участок дороги, где отсутствует пешеходный переход.
2. Пешеходный переход.
3. Участок дороги с подземным пешеходным переходом.

61. Какой из данных знаков относится к группе предписывающих?



1.



2.



3.



4.

1. Все знаки.
2. Только 1 и 3.
3. Только 3.
4. Только 3 и 4.

62. Какой из знаков разрешает пешеходный переход проезжей части именно в том месте, где он установлен?



1.



2.



3.

1. Только 1.
2. Только 2.
3. Только 3.
4. Только 2 и 3.



63. Как называется этот знак?


1. Пешеходный переход.
2. Пешеходная дорожка.
3. Движение только для пешеходов.



64. К какой группе знаков относится этот знак?

1. Информационно-указательных.
2. Предупреждающих.
3. Предписывающих.

65. Какой знак должен стоять в этом месте?



- 1.
- 2.
- 3.
- 4.



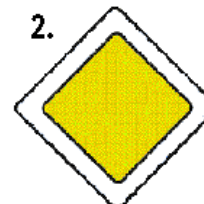
66. К какой группе относится данный знак?

1. Приоритета.
2. Предупреждающих.
3. Запрещающих.

68. Какой знак предупреждает о приближении к перекрестку равнозначных дорог?



1. Знаки 1 и 2.
2. Знаки 3 и 4.
3. Знак 3.
4. Знак 5.



69. Какой из дорожных знаков называется «Главная дорога»?

1. Только 1.
2. Только 2.



70. Этот знак называется:

1. «Движение прямо».
2. «Направление движения по полосе».
3. «Дорога с односторонним движением».



71. Этот дорожный знак показывает, что впереди:

1. Движение возможно только направо.
2. Дорога с односторонним движением.

**72. Кто из участников дорожного движения должен подчиняться требованиям данного дорожного знака?**



1. Только мотоциклист.
2. Водитель, управляющий мопедом и велосипедом.
3. Водитель, управляющий мопедом, велосипедом и мотоциклом.
4. Все участники дорожного движения.

**73. Как безопаснее поступить водителю мопеда, если на перекрестке установлен этот знак?**



1. Уступить дорогу транспортным средствам, движущимся по пересекаемой дороге.
2. Продолжить движение, не уступая дорогу.
3. Проехать перекресток с соблюдением мер предосторожности.



**74. Этот знак:**

1. Запрещает движение на велосипедах.
2. Предупреждает об опасности.
3. Не запрещает движение на велосипедах.

### Правила движения пешехода

**75. Где разрешается кататься на санках и лыжах?**

1. По дороге, предназначенной для пешеходов.
2. По правой стороне проезжей части.
3. В специально отведенных местах для массового отдыха, где нет опасности выезда на проезжую часть.

**76. Какой стороны должен придерживаться пешеход при движении по тротуару?**

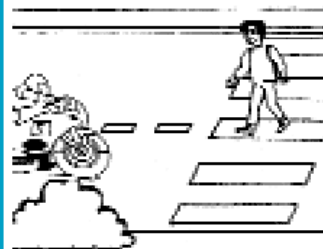
1. Безразлично.
- 2.левой.
3. Правой.



**77. Кто нарушает правила безопасности поведения на улице?**

1. Велосипедист и футболисты.
2. Велосипедист, футболисты и мальчик, который бежит.
3. Все дети.

**78. Как безопаснее перейти дорогу в этом случае?**



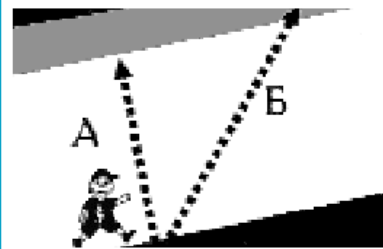
1. Пешеходный переход дает преимущество, пешеход может смело идти, не обращая внимания на мотоциклиста.
2. Необходимо убедиться, что мотоциклист уступает дорогу, или остановиться посередине дороги и переждать, пока мотоциклист проедет.

**79. Разрешается ли движение пешеходов по велосипедной дорожке?**

1. Разрешается во всех случаях.
2. Не разрешается.
3. Разрешается, не затрудняя движение велосипедистов, если нет пешеходной дорожки или тротуара.

**80. Что сказано в Правилах о переходе дороги, если приближается автомобиль с проблесковым маячком или специальным сигналом?**

1. Воздерживаться от выхода на проезжую часть.
2. Можно переходить дорогу, не мешая этому автомобилю.



**81. Какой путь безопаснее для пешехода при переходе через проезжую часть?**

1. А.
2. Б.

**82. К вам приближается транспортное средство, на котором включен проблесковый маячок синего цвета и дополнительно к нему проблесковый маячок красного цвета. Как вы поступите, если только что начали переходить дорогу по пешеходному переходу?**

1. Вернетесь на тротуар и дождетесь, пока это транспортное средство проедет.
2. Увеличите скорость, чтобы быстрее перейти дорогу.
3. Спокойно перейдете дорогу, не ускоряя шаг.

**83. Как должен поступить пешеход, стоящий у края проезжей части, при приближении транспортного средства с включенным проблесковым маячком и специальным звуковым сигналом?**

1. Как можно скорее перейти проезжую часть.
2. Воздержаться от перехода проезжей части.

**84. Как должны двигаться лица, ведущие мотоцикл, мопед или велосипед, за пределами населенного пункта?**

1. По краю проезжей части навстречу движению транспортных средств.
2. По краю проезжей части по ходу движения транспортных средств.
3. По тротуару.
4. По тротуару или велосипедной дорожке.

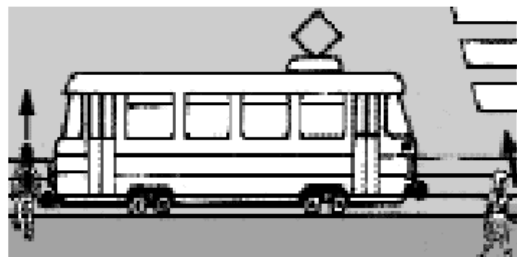


**85. Могут ли пешеходы двигаться по участку дороги, обозначенному этим знаком?**

1. Могут.
2. Не могут.
3. Этот знак к пешеходам не имеет отношения.

**86. Что должны, по возможности, предпринять пешеходы при движении по загородной дороге в темное время суток и в условиях недостаточной видимости?**

1. Идти, по возможности придерживаясь правой стороны, по ходу движения транспортных средств.
2. Идти навстречу движению транспортных средств, надеть яркую нарукавную повязку или прикрепить к своей одежде световозвращающие элементы.
3. Идти, придерживаясь правой стороны и освещая дорогу фонариком.



**87. Кто нарушает правила безопасного поведения на дороге?**

1. Мальчик.
2. Девочка.
3. Мальчик и девочка.

**88. Когда водитель должен уступить дорогу пешеходам?**

1. При выезде на дорогу из дворов.
2. При съезде с дороги во двор.
3. При выезде на дорогу с автозаправочных станций.
4. При выезде на дорогу с мест стоянки.
5. Во всех перечисленных случаях.

**89. Разрешается ли движение пешеходов по дороге, обозначенной знаком «Автомост»?**

1. Запрещается.
2. Разрешается идти только вне населенных пунктов навстречу движению транспортных средств.
3. Разрешается идти вне населенных пунктов по ходу движения транспортных средств.

### Где и как переходить улицу и дорогу

**90. В каком случае разрешается переходить дорогу в произвольном месте?**

1. Всегда, если это безопасно.
2. Если в зоне видимости нет перекрестка или пешеходного перехода и дорога хорошо просматривается в обе стороны.
3. В произвольном месте переходить дорогу нельзя.

**91. Где следует переходить дорогу, если обозначенного пешеходного перехода нет?**

1. На перекрестках по линии тротуаров или обочин.
2. В любом месте, если поблизости нет перекрестка и дорога просматривается в обе стороны.
3. Во всех перечисленных случаях.

**92. Можно ли переходить дорогу вне пешеходного перехода, если она просматривается только в одном направлении?**

1. Можно.
2. Нельзя.

**93. Разрешается ли переходить дорогу с разделительной полосой вне пешеходного перехода?**

1. Разрешается.
2. Не разрешается.

**94. Разрешено ли переходить дорогу в местах, где есть пешеходные ограждения?**

1. Разрешено, если нет движущихся транспортных средств.
2. Запрещено.

**95. Какие меры предосторожности должен принять пешеход, начиная переход дороги между стоящими автомобилями?**

1. Убедиться, что нет приближающихся слева и справа транспортных средств.
2. Переходить дорогу медленно.
3. Переходить дорогу быстрее.

**96. Как должен поступить пешеход, если он при переключении светофора на желтый сигнал не успел дойти до середины проезжей части?**

1. Продолжить переход.
2. Вернуться обратно на тротуар.
3. Дойти до середины проезжей части и ожидать там зеленого сигнала.

**97. Какое правило для обеспечения безопасности должен выполнять пешеход, переходя дорогу?**

1. Переходить под прямым углом к тротуару и не останавливаться без необходимости.
2. Как можно быстрее перебежать дорогу.
3. Не грызть на ходу семечки.

**98. Имеет ли право пешеход переходить дорогу, если в основном светофоре включен зеленый сигнал, а в пешеходном — красный сигнал?**

1. Не имеет права.
2. Имеет право.
3. Имеет, если поблизости нет движущихся в его направлении автомобилей.

**99. Разрешается ли переходить дорогу по проезжей части, если в этом месте есть подземный переход?**

1. Разрешается.
2. Не разрешается.



**100. Разрешает ли пешеходам указанный знак переходить здесь через дорогу?**

1. Разрешает.
2. Не разрешает.

**101. Где можно переходить проезжую часть автомобильной дороги вне населенного пункта, если нет пешеходного перехода?**

1. В любом месте, не мешая движению транспортных средств.
2. В местах, где дорога хорошо просматривается в обе стороны.
3. На повороте дороги.
4. В местах, где стоит знак, ограничивающий скорость движения транспортных средств.

**102. В каких случаях пешеходам разрешается переходить проезжую часть вне пешеходного перехода при наличии разделительной полосы?**


1. Вне населенных пунктов при отсутствии транспортных средств на дороге.
2. В населенных пунктах.
3. Запрещается во всех случаях.

**103. Разрешается ли пешеходу пересекать проезжую часть в данном случае?**



1. Запрещается.
2. Разрешается.
3. Разрешается только под прямым углом, когда дорога хорошо просматривается в обе стороны и в зоне видимости нет пешеходных переходов или перекрестка.

**104. Разрешается ли пешеходам переходить через дорогу в этом случае, если поблизости нет пешеходного перехода?**



1. Запрещается.
2. Разрешается переходить дорогу под прямым углом к краю проезжей части на участках, где она хорошо просматривается в обе стороны.

**105. В каком месте разрешается пешеходам пересекать проезжую часть при отсутствии пешеходного перехода?**

1. На участках, где дорога хорошо просматривается в обе стороны под прямым углом к краю проезжей части.
2. На перекрестках по линии тротуаров или обочин.
3. Во всех перечисленных местах.

**106. На каком рисунке изображено самое безопасное место для перехода через проезжую часть?**



1. На рисунках 1 и 3.
2. На рисунке 1.
3. На рисунках 1, 3 и 4.
4. На всех рисунках.

**107. Как должны вести себя пешеходы в этой ситуации?**



1. Пропустить автомобиль.
2. Перейти дорогу, не пропуская автомобиль.
3. Убедиться, что водитель автомобиля уступает дорогу, после этого перейти по пешеходному переходу.


**108. В каких местах запрещено пешеходу переходить через дорогу?**

1. На крутых поворотах.
2. В местах, где дорога идет на подъем.
3. Около туннелей и мостов.
4. Во всех перечисленных местах.

**109. Можно ли переходить дорогу вне пешеходного перехода, если она просматривается только в одном направлении?**

1. Да.
2. Нет.

**110. Кому из пешеходов безопасно переходить дорогу?**




1. Пешеходу № 1.
2. Пешеходу № 2.
3. Пешеходу № 3.
4. Пешеходам № 2 и 4.
5. Пешеходам № 1 и 5.



**111. По какому направлению безопаснее перейти дорогу?**

1. По стрелке Б.
2. По стрелке А.

**112. Как безопасно перейти дорогу?**



1. Не спеша, переходить дорогу по переходу.
2. Дойти до середины дороги, убедиться, что легковой автомобиль уступает дорогу, и после этого переходить.



**113. Правильно ли переходят дорогу мальчики?**

1. Правильно.
2. Неправильно.

## Элементы улиц и дорог

**114. Основными элементами дороги в городе являются:**

1. Обочина, кювет, тротуар.
2. Пешеходный переход, дорожное ограждение, обочина.
3. Проезжая часть, тротуар, разделительная полоса, трамвайные пути, обочина.

**115. Относится ли ледовая переправа к понятию «дорога»?**

1. Да, относится.
2. Нет, не относится.



**116. Действуют или нет на ледовой переправе требования Правил дорожного движения?**

1. Да, действуют.
2. Нет, не действуют.

**117. Правила дорожного движения рассматривают понятие «дорога», как:**

1. Обустроенная или приспособленная и используемая для движения транспортных средств полоса земли либо поверхность искусственного сооружения.
2. Только проезжая часть, по которой движется транспортное средство.
3. Только дороги с твердым покрытием.

**118. Верно ли высказывание: «прилегающая территория не является составной частью дороги»?**

1. Да, верно.
2. Нет, ошибочно.

### Регулируемый перекресток

**119. Что означает, если одновременно горят красный и желтый сигналы светофора?**

1. Можно начинать переход дороги.
2. Скоро будет включен зеленый сигнал.

**120. Что означает мигание зеленого сигнала светофора?**

1. Нарушение контакта в светофоре.
2. Переходить дорогу запрещается.
3. Время зеленого сигнала истекает, и сейчас будет включен запрещающий сигнал.

**121. Кому должны подчиняться водители и пешеходы, если сигналы регулировщика противоречат сигналам светофора?**

1. Только сигналам светофора.
2. Только сигналам регулировщика.

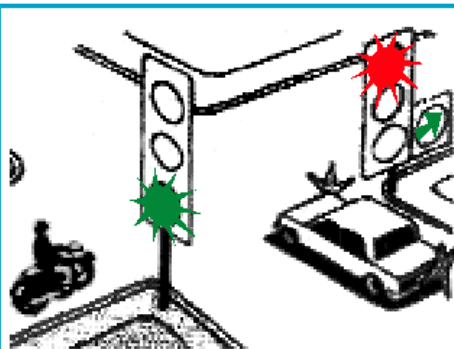
**122. Что означает желтый сигнал светофора, включенный после красного сигнала?**

1. Начинать движение нельзя.
2. Начинать движение можно.
3. Скоро будет включен зеленый сигнал светофора.




**123. Кто имеет преимущественное право на движение при зеленом сигнале светофора в данной обстановке?**

1. Водитель автомобиля.
2. Пешеход, но перед тем как переходить дорогу, он должен убедиться, что его пропускают.



**124. Водитель какого транспортного средства должен уступить дорогу?**

1. Водитель автомобиля.
2. Водитель мотоцикла.
3. Оба транспортных средства могут проехать перекресток одновременно.



**125. Разрешает ли этот сигнал регулировщика переходить проезжую часть, отмеченную стрелкой?**

1. Разрешает.
2. Не разрешает.

**126. Какие сигналы имеют пешеходные светофоры?**

1. Только красный.
2. Только зеленый.
3. Красный и зеленый.
4. Красный, зеленый, желтый.

**127. Имеет ли право велосипедист продолжать движение в этой ситуации?**



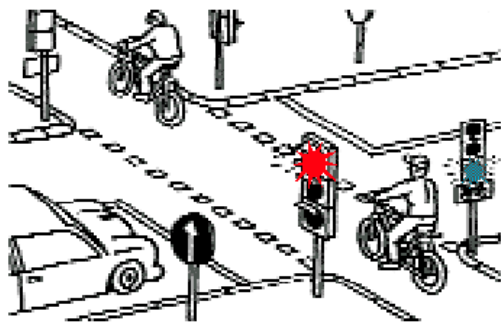
1. Имеет.
2. Имеет при соблюдении особых мер предосторожности.
3. Имеет, пропуская транспортные средства, движущиеся слева.
4. Не имеет.

**128. Указаниями какого светофора должен руководствоваться велосипедист при движении по дороге?**

1. Только транспортного.
2. Пешеходного.
3. Велосипедного, а при его отсутствии — транспортного.

**129. Разрешен ли переход дороги при желтом сигнале светофора?**

1. Нет, не разрешен.
2. Да, разрешен.
3. Разрешен, если нет автомашин.




**130. Кто первым проедет перекресток?**

1. Велосипедист.
2. Водитель автомобиля.

**131. Где появился первый светофор?**

1. В Америке.
2. В России.
3. Во Франции.
4. В Англии.

### Нерегулируемый перекресток



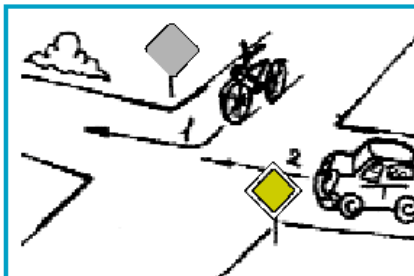
**132. Кто первым проедет перекресток?**

1. Водитель велосипеда.
2. Водитель автомобиля.



**133. Кто имеет преимущественное право на движение?**

1. Водитель велосипеда.
2. Водитель автомобиля.

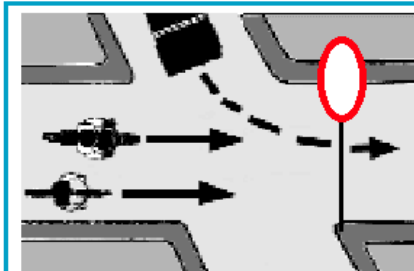


**134. Кто имеет преимущественное право на движение в направлениях, указанных стрелками?**

1. Водитель автомобиля.
2. Водитель велосипеда.

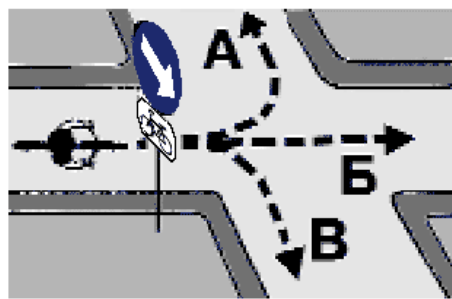
**135. Кто имеет преимущество проезда в местах нерегулируемого пересечения велосипедной дорожки с дорогой?**

1. Водители транспортных средств на пересекаемой дороге.
2. Велосипедист.



**136. Кому разрешено движение?**

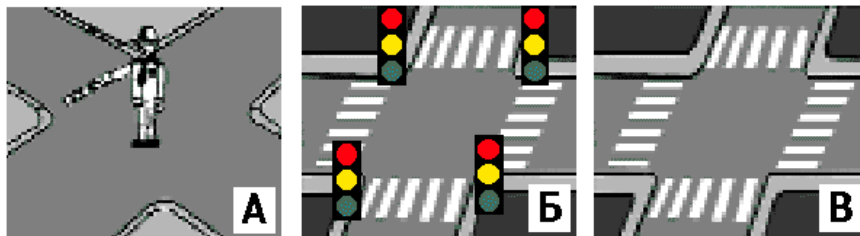
1. Автомобилю.
2. Велосипедисту и мотоциклисту.
3. Всем.
4. Никому.



**137. В каком направлении разрешено движение велосипедисту?**

1. А.
2. Б.
3. В.
4. Во всех.

**138. На каком рисунке перекресток нерегулируемый?**



1. А и Б.
2. А и В.
3. Б и В.
4. В.



**139. В каком случае велосипедист правильно выполнил требование знака?**

1. Проехал перекресток без остановки.
2. Уступил дорогу автомобилю.

**140. С какого возраста разрешается обучать вождению на мотоцикле?**

1. С 12 лет.
2. С 14 лет.
3. С 16 лет.
4. С 18 лет.

**141. В каких случаях велосипедисту разрешается покидать крайнее правое положение на проезжей части?**

1. Для объезда.
2. В разрешенных случаях для поворота налево или разворота.
3. В обоих перечисленных случаях.

**142. В каком возрасте разрешается выезжать на велосипеде на дороги общего пользования?**

1. Не моложе 10 лет.
2. Не моложе 14 лет.
3. Не моложе 16 лет.

**143. Можно ли велосипедисту повернуть налево с пересечением трамвайных путей?**

1. Нельзя.
2. Можно, если вблизи нет трамвая.

**144. По какой полосе можно проехать на велосипеде?**

1. По любой в один ряд, возможно правее.
2. Как можно ближе к правому краю проезжей части.
3. Не дальше второго ряда.
4. По крайней правой полосе, на любом расстоянии от проезжей части.

**Правила движения  
велосипедиста, мопедиста**

**145. Имеет ли право велосипедист развернуться, не слезая с велосипеда, на дороге с двумя полосами движения в каждом направлении?**

1. Не имеет права.
2. Имеет право.

**146. Предупредительными сигналами являются:**

1. Сигналы, подаваемые световыми указателями поворота или рукой.
2. Звуковой сигнал.
3. Переключение света фар и включение ближнего света фар в дневное время.
4. Включение аварийной сигнализации.
5. Все перечисленные сигналы.

**147. Всегда ли водитель должен подавать предупредительный сигнал об изменении направления движения?**

1. Только в том случае, если сзади него движется другое транспортное средство.
2. Только в том случае, если его транспортное средство оборудовано световыми указателями поворота.
3. Только на дороге с интенсивным движением.
4. Всегда.

**148. Всегда ли должен водитель подавать световой сигнал указателями поворота при выполнении маневра?**

1. Должен всегда.
2. Не должен, если он может ввести в заблуждение других участников движения.
3. Должен, приняв необходимые меры предосторожности.

**149. Как пользоваться тормозами на скользкой дороге?**

1. Плавно тормозить и не производить резких поворотов рулевым колесом.
2. Резко нажать на тормоз.
3. Тормозить резкими, прерывистыми нажатиями.



**150. Что означает этот сигнал водителя мопеда?**

1. Поворачиваю налево.
2. Поворачиваю направо.
3. Останавливаюсь.



**151. Что означает этот сигнал велосипедиста?**

1. Поворачиваю направо.
2. Поворачиваю налево.
3. Останавливаюсь.



**152. Что означает этот сигнал велосипедиста?**


1. Поворачиваю направо.
2. Поворачиваю налево.
3. Останавливаюсь.

**153. Разрешается ли водителю мопеда езда по пешеходным дорожкам?**

1. Разрешается, если это не мешает пешеходам.
2. Не разрешается.


**154. Как должен поступить велосипедист, приближаясь к стоящему на остановке трамваю?**

1. Уступить дорогу пешеходам, идущим к трамваю и от него.
2. Проехать мимо трамвая медленно.
3. Остановиться и ждать, пока трамвай начнет движение.



**155. Кто имеет преимущественное право на движение в этой обстановке?**

1. Пешеход.
2. Велосипедист.



**156. Кто должен первым проехать перекресток?**

1. Автобус.
2. Мопед.

**157. В каком возрасте разрешается езда на мопеде по дорогам общего пользования?**

1. С 14 лет.
2. С 16 лет.
3. С 18 лет.

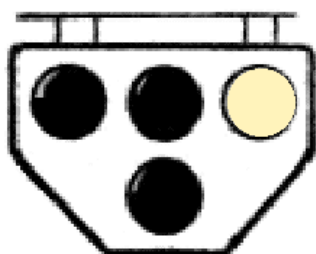


**158. Может ли мотоциклист повернуть направо при этом сигнале светофора?**

1. Не имеет права.
2. Может.

**159. Как должен поступить велосипедист перед тем, как объехать стоящий у тротуара автомобиль?**

1. Подать рукой сигнал перестроения налево, убедиться в безопасности объезда и только после этого совершить маневр.
2. Остановиться, сойти с велосипеда и обойти стоящий транспорт с правой стороны или по тротуару.
3. Подать сигнал и совершить объезд препятствия (сигнал дает велосипедисту преимущество).



**160. Должен ли велосипедист руководствоваться сигналами этого светофора?**

1. Нет. Это светофор для транспортных средств общего пользования.
2. Должен.

**161. При какой ширине проезжей части велосипедист может повернуть налево, не слезая с велосипеда?**

1. При любой ширине.
2. Не больше одной полосы в каждом направлении.
3. Не больше двух полос в каждом направлении.

**162. Нужно ли при движении на мопеде включать фару в дневное время?**

1. Нужно, как и на мотоцикле.
2. Не нужно.

**163. Разрешается ли буксировка велосипеда другим велосипедом или мопедом?**

1. Разрешается
2. Не разрешается.

**164. Имеет ли право велосипедист ехать по проезжей части дороги, если рядом есть велосипедная дорожка?**

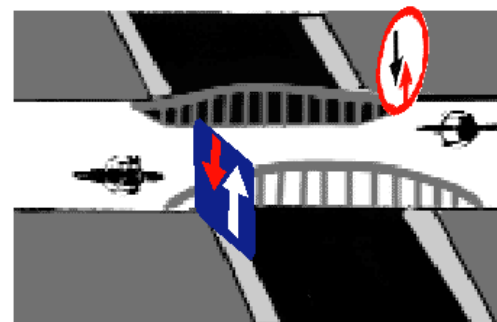
1. Имеет право.
2. Не имеет права.

**165. Разрешается ли первоначальное обучение езде на мопеде на дорогах общего пользования?**

1. Разрешается только на дорогах с неинтенсивным движением.
2. Не разрешается.

**166. Как велосипедисту повернуть налево на улице с четырехполосной проезжей частью?**

1. Перестроиться в левое положение, пропустить встречный транспорт и повернуть.
2. Сойти с велосипеда и провести его по пешеходному переходу.



**167. Кто проедет первым?**

1. Велосипедист.
2. Мотоциклист.

**168. Как должны поступить водители велосипеда и мопеда в данном случае?**

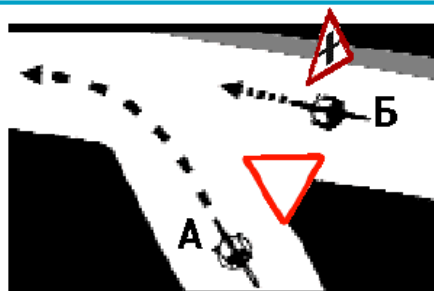


1. Продолжить движение без остановки.
2. Пропустить пешеходов и только после этого продолжить движение.
3. Продолжить движение с соблюдением мер предосторожности.



**169. Разрешается ли водителям продолжать движение?**

1. Только водителю автомобиля.
2. Только водителю мотоцикла.
3. Обоим разрешается.
4. Обоим не разрешается.



**170. Кто должен уступить дорогу?**

1. Велосипедист А.
2. Велосипедист Б.



**171. Водитель велосипеда:**

1. Должен уступить дорогу.
2. Имеет право на первоочередное движение.



**172. Кому разрешено движение?**

1. Автомобилям и велосипедисту.
2. Велосипедисту и пешеходу.
3. Автомобилям и пешеходу.

**173. Велосипедист при выполнении поворота должен:**

1. Подать сигнал поворота рукой во время маневра.
2. Подать сигнал заблаговременно.
3. Подать сигнал заблаговременно и убедиться в безопасности маневра.

### Правила движения велосипедиста, мопедиста

**140. С какого возраста разрешается обучать вождению на мотоцикле?**

1. С 12 лет.
2. С 14 лет.
3. С 16 лет.
4. С 18 лет.

**141. В каких случаях велосипедисту разрешается покинуть крайнее правое положение на проезжей части?**

1. Для объезда.
2. В разрешенных случаях для поворота налево или разворота.
3. В обоих перечисленных случаях.

**142. В каком возрасте разрешается выезжать на велосипеде на дороги общего пользования?**

1. Не моложе 10 лет.
2. Не моложе 14 лет.
3. Не моложе 16 лет.



**143. Можно ли велосипедисту повернуть налево с пересечением трамвайных путей?**

1. Нельзя.
2. Можно, если вблизи нет трамвая.

**144. По какой полосе можно проехать на велосипеде?**

1. По любой в один ряд, возможно правее.
2. Как можно ближе к правому краю проезжей части.
3. Не дальше второго ряда.
4. По крайней правой полосе, на любом расстоянии от проезжей части.

**145. Имеет ли право велосипедист развернуться, не слезая с велосипеда, на дороге с двумя полосами движения в каждом направлении?**

1. Не имеет права.
2. Имеет право.

**146. Предупредительными сигналами являются:**

1. Сигналы, подаваемые световыми указателями поворота или рукой.
2. Звуковой сигнал.
3. Переключение света фар и включение ближнего света фар в дневное время.
4. Включение аварийной сигнализации.
5. Все перечисленные сигналы.

**147. Всегда ли водитель должен подавать предупредительный сигнал об изменении направления движения?**

1. Только в том случае, если сзади него движется другое транспортное средство.
2. Только в том случае, если его транспортное средство оборудовано световыми указателями поворота.
3. Только на дороге с интенсивным движением.
4. Всегда.

**148. Всегда ли должен водитель подавать световой сигнал указателями поворота при выполнении маневра?**

1. Должен всегда.
2. Не должен, если он может ввести в заблуждение других участников движения.
3. Должен, приняв необходимые меры предосторожности.

**149. Как пользоваться тормозами на скользкой дороге?**

1. Плавно тормозить и не производить резких поворотов рулевым колесом.
2. Резко нажать на тормоз.
3. Тормозить резкими, прерывистыми нажатиями.



**150. Что означает этот сигнал водителя мопеда?**

1. Поворачиваю налево.
2. Поворачиваю направо.
3. Останавливаюсь.



**151. Что означает этот сигнал велосипедиста?**

1. Поворачиваю направо.
2. Поворачиваю налево.
3. Останавливаюсь.



**152. Что означает этот сигнал велосипедиста?**

1. Поворачиваю направо.
2. Поворачиваю налево.
3. Останавливаюсь.

**153. Разрешается ли водителю мопеда езда по пешеходным дорожкам?**

1. Разрешается, если это не мешает пешеходам.
2. Не разрешается.


**154. Как должен поступить велосипедист, приближаясь к стоящему на остановке трамваю?**

1. Уступить дорогу пешеходам, идущим к трамваю и от него.
2. Проехать мимо трамвая медленно.
3. Остановиться и ждать, пока трамвай начнет движение.



**155. Кто имеет преимущественное право на движение в этой обстановке?**

1. Пешеход.
2. Велосипедист.



**156. Кто должен первым проехать перекресток?**

1. Автобус.
2. Мопед.

**157. В каком возрасте разрешается езда на мопеде по дорогам общего пользования?**

1. С 14 лет.
2. С 16 лет.
3. С 18 лет.

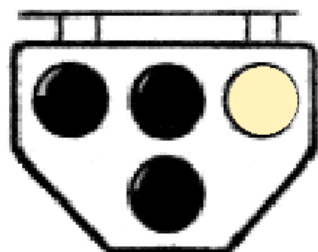


**158. Может ли мотоциклист повернуть направо при этом сигнале светофора?**

1. Не имеет права.
2. Может.

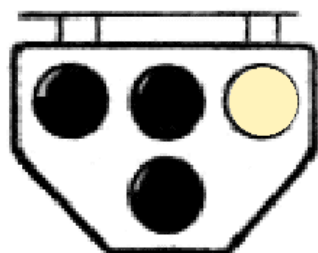
**159. Как должен поступить велосипедист перед тем, как объехать стоящий у тротуара автомобиль?**

1. Подать рукой сигнал перестроения налево, убедиться в безопасности объезда и только после этого совершить маневр.
2. Остановиться, сойти с велосипеда и обойти стоящий транспорт с правой стороны или по тротуару.
3. Подать сигнал и совершить объезд препятствия (сигнал дает велосипедисту преимущество).



**160. Должен ли велосипедист руководствоваться сигналами этого светофора?**

1. Нет. Это светофор для транспортных средств общего пользования.
2. Должен.



**160. Должен ли велосипедист руководствоваться сигналами этого светофора?**

1. Нет. Это светофор для транспортных средств общего пользования.
2. Должен.

**161. При какой ширине проезжей части велосипедист может повернуть налево, не слезая с велосипеда?**

1. При любой ширине.
2. Не больше одной полосы в каждом направлении.
3. Не больше двух полос в каждом направлении.

**162. Нужно ли при движении на мопеде включать фару в дневное время?**

1. Нужно, как и на мотоцикле.
2. Не нужно.

**163. Разрешается ли буксировка велосипеда другим велосипедом или мопедом?**

1. Разрешается.
2. Не разрешается.

**164. Имеет ли право велосипедист ехать по проезжей части дороги, если рядом есть велосипедная дорожка?**

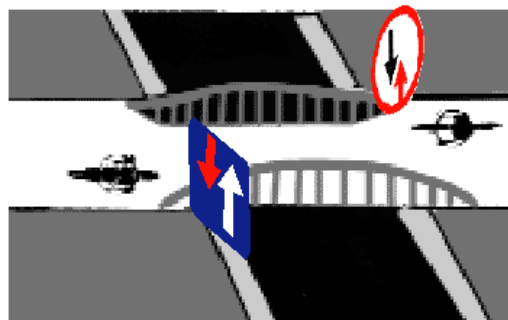
1. Имеет право.
2. Не имеет права.

**165. Разрешается ли первоначальное обучение езде на мопеде на дорогах общего пользования?**

1. Разрешается только на дорогах с неинтенсивным движением.
2. Не разрешается.

**166. Как велосипедисту повернуть налево на улице с четырехполосной проезжей частью?**

1. Перестроиться в левое положение, пропустить встречный транспорт и повернуть.
2. Сойти с велосипеда и провести его по пешеходному переходу.



**167. Кто проедет первым?**

1. Велосипедист.
2. Мотоциклист.

**168. Как должны поступить водители велосипеда и мопеда в данном случае?**

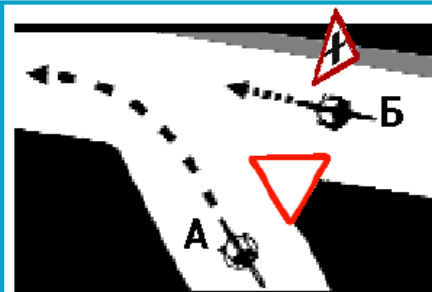


1. Продолжить движение без остановки.
2. Пропустить пешеходов и только после этого продолжить движение.
3. Продолжить движение с соблюдением мер предосторожности.



**169. Разрешается ли водителям продолжать движение?**

1. Только водителю автомобиля.
2. Только водителю мотоцикла.
3. Обоим разрешается.
4. Обоим не разрешается.



**170. Кто должен уступить дорогу?**

1. Велосипедист А.
2. Велосипедист Б.



**171. Водитель велосипеда:**

1. Должен уступить дорогу.
2. Имеет право на первоочередное движение.



**172. Кому разрешено движение?**

1. Автомобилям и велосипедисту.
2. Велосипедисту и пешеходу.
3. Автомобилям и пешеходу.

**173. Велосипедист при выполнении поворота должен:**

1. Подать сигнал поворота рукой во время маневра.
2. Подать сигнал заблаговременно.
3. Подать сигнал заблаговременно и убедиться в безопасности маневра.

### Перевозка людей и груза на велосипеде и мототранспорте

**174. Разрешается ли водителю мотоцикла перевозить пассажира на заднем сиденье?**

1. Не разрешается.
2. Разрешается только ребенка до 7 лет.
3. Разрешается, старше 12 лет.

**175. Разрешается ли перевозить пассажира в кузове грузового мотороллера?**

1. Разрешается.
2. Не разрешается.

**176. Какие грузы запрещается перевозить на велосипеде и мопеде?**

1. Всякие грузы.
2. Грузы, мешающие управлению или выступающие более чем на 0,5 м по длине и ширине за габариты.
3. Грузы весом более 10 кг.

**177. Разрешается ли перевозка пассажиров на велосипеде?**

1. Разрешается.
2. Запрещается.
3. Разрешается перевозка детей до 7 лет на специально оборудованном сиденье.
4. Разрешается перевозить пассажиров старше 7 лет на заднем, специально оборудованном сиденье.

### Движение группы пешеходов и велосипедистов

**178. Где разрешается водить группы детей в населенном пункте?**

1. Только по тротуару или пешеходной дорожке.
2. По краю проезжей части вдоль тротуара.

**179. Какое расстояние между группами велосипедистов должно быть при их движении по дорогам?**

1. 20-30 м.
2. 30-50 м.
3. 80-100 м.

**180. Почему необходимо сохранять расстояние между группами велосипедистов?**

1. Чтобы при торможении группы не столкнулись.
2. Для удобства обгона.
3. Во избежание аварии.

**181. На группы по сколько человек должны делиться велосипедисты?**

1. По 4-8 велосипедистов.
2. По 10 велосипедистов.
3. По 8-10 велосипедистов.

**182. Можно ли водить колонны детей по загородной дороге в темное время суток?**

1. Нельзя.
2. Можно в сопровождении взрослых и с зажженными фонарями.

**183. Как должна обозначаться колонна людей при движении по дороге в темное время суток?**

1. Фонарями с белым светом спереди и сзади.
2. Фонарем с красным светом позади.
3. Фонарями с белым светом впереди и красным позади.

**184. Как должны обозначаться колонны людей при движении по дороге днем?**

1. Белыми флажками спереди и сзади.
2. Красными флажками только сзади.
3. Красными флажками спереди и сзади.

### **Некоторые технические требования к велосипеду и мопеду**

**185. Разрешается ли эксплуатация мопеда, если рисунок протектора его шин полностью стерт?**

1. Разрешается только в сухую погоду.
2. Разрешается.
3. Не разрешается.

**186. При достижении какого минимального возраста разрешается перевозить детей на переднем сиденье легкового автомобиля без специального детского сиденья?**

1. С 8 лет.
2. С 10 лет.
3. С 12 лет.
4. С 14 лет.
5. С 16 лет.

**187. Ремнями безопасности можно не пристегиваться при проезде:**

1. В автомобиле индивидуального владельца?
2. В такси в городе?
3. В такси на загородной дороге?
4. Сотрудникам на машинах оперативных служб?

**188. С какого возраста разрешается обучать вождению на легковом автомобиле?**

1. С 14 лет.
2. С 15 лет.
3. С 16 лет.
4. С 18 лет.

**189. Можно ли садиться в легковой автомобиль со стороны проезжей части?**

1. Нельзя.
2. Можно, если со стороны тротуара это невозможно и если это безопасно для пассажиров и других участников движения.
3. Можно во всех случаях.

**190. Можно ли стоять при проезде в кузове грузового автомобиля?**

1. Можно, если есть за что держаться.
2. Нельзя.

**191. Могут ли лица, сопровождающие груз, находиться на нем выше уровня бортов движущегося грузового автомобиля?**

1. Не могут.
2. Могут, если для них оставлено безопасное место.

**192. Какие меры предосторожности должен предпринять пассажир легкового автомобиля перед тем, как открыть его дверь?**

1. Убедиться, что это безопасно для окружающих и не помешает другим участникам движения.
2. Никаких мер не надо.

**193. Что запрещено людям, проезжающим в кузове грузового автомобиля?**

1. Стоять, сидеть на борту.
2. Курить, разговаривать между собой.
3. Прижиматься к переднему борту автомобиля, шуметь и петь песни.

**194. Какое количество пассажиров может размещаться в кузове грузового автомобиля, оборудованного для перевозки людей?**

1. В зависимости от размера кузова.
2. Не больше 20 человек.
3. Не превышая числа оборудованных для сидения мест.

**195. Разрешено ли пассажиру разговаривать с водителем?**

1. Запрещено.
2. Не запрещено, если это не отвлекает водителя от управления транспортным средством.

**196. В каких случаях Правила разрешают водителю и пассажирам автомобилей, оборудованных ремнями безопасности, не пристегиваться ими?**

1. Если автомобиль движется со скоростью не более 40 км/ч.
2. При движении в населенных пунктах водителю и пассажиру (инструктору) учебной машины.
3. Водителям и пассажирам автомобилей оперативной службы.

**197. Водитель и пассажир транспортного средства, оборудованного ремнями безопасности, обязаны быть пристегнуты:**

1. Только при движении по горным дорогам.
2. Только при движении вне населенных пунктов.
3. Во всех случаях при движении транспортного средства.
4. Только при движении по автомагистралям.

**198. Разрешается ли буксировка двухколесных мотоциклов без бокового прицепа?**

1. Разрешается мотоциклом с боковым прицепом.
2. Не разрешается.
3. Разрешается с соблюдением необходимых мер предосторожности.

**199. Разрешается ли буксировка мотоциклов с боковым прицепом?**

1. Разрешается только на жесткой сцепке.
2. Запрещается.
3. Разрешается.

**200. Разрешается ли буксировать мотоциклы?**

1. Разрешается мотоциклы с боковым прицепом.
2. Запрещается.
3. Разрешается в равнинной местности.
4. Разрешается мотоциклы без бокового прицепа.

**201. Разрешается ли проезд в кузове грузового автомобиля, не оборудованного для перевозки людей?**

1. Запрещается.
2. Разрешается на дорогах, не относящихся к автомагистралям.
3. Разрешается только лицам, сопровождающим груз или следующим за его получением, при условии обеспечения их местом для сидения, расположенным ниже уровня бортов.

**202. Разрешается ли перевозить детей на мотоцикле без бокового прицепа?**

1. Разрешается.
2. Разрешается — детей старше 12 лет.
3. Разрешается при наличии взрослого пассажира.
4. Запрещается.

**203. Разрешается ли перевозка людей в грузовом прицепе?**

1. Запрещается.
2. Разрешается.
3. Разрешается только лицам, сопровождающим груз.

**204. В каких случаях при организованной перевозке групп детей в автобусах или на грузовых автомобилях должен быть включен ближний свет фар в светлое время суток?**

1. Только в условиях недостаточной видимости.
2. Только при интенсивном движении.
3. По усмотрению водителя.
4. Во всех случаях, когда осуществляется перевозка.

**205. Разрешается ли перевозка детей на переднем сиденье легкового автомобиля?**

1. Разрешается перевозка детей в возрасте не моложе 7 лет.
2. Разрешается перевозка детей до 12 лет при наличии специального детского сиденья.
3. Разрешается независимо от возраста при наличии взрослого пассажира.

**206. Разрешается ли перевозить детей, не достигших 12 лет, в кабине грузового автомобиля?**

1. Разрешается.
2. Разрешается только в сопровождении взрослого пассажира.
3. Запрещается.


**Дорожная разметка**



**207. Что обозначает такая дорожная разметка?**

1. «Островок безопасности».
2. «Направляющий островок» в местах разделения транспортных потоков.







**208. Такая дорожная разметка:**

1. Дает преимущество пешеходу при переходе дороги.
2. Дает преимущество велосипедисту, проезжающему дорогу.
3. Дает преимущество велосипедисту и пешеходу.
4. Предупреждает водителя о пересечении с велосипедной дорожкой.

**209. Эта дорожная разметка имеет следующее значение:**

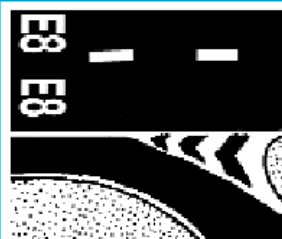


1. Обозначение специальной пешеходной дорожки.
2. Обозначение велосипедной дорожки, стрелы разметки указывают направление движения по полосам.
3. Обозначение пешеходного перехода, стрелы разметки указывают направление движения пешеходов.




**210. Что означает эта разметка?**

1. Пешеходный переход.
2. Место, где велосипедная дорожка пересекает проезжую часть.
3. Место перегона скота.



**211. Разрешается ли заезжать на островок, размеченный широкими белыми линиями?**

1. Разрешается только для остановки.
2. Разрешается при движении задним ходом.
3. Запрещается.



**А 212. Какая из этих линий обозначает остановку маршрутных транспортных средств?**

- Б** 1. А.  
2. Б.  
3. А и Б.
- В** 4. Б и В.

**213. Эта дорожная разметка имеет следующее назначение:**



1. Обозначение стояночных мест, где указаны способы постановки механических транспортных средств на околотротуарной стоянке.
2. Обозначение мест, где запрещена остановка механических транспортных средств.
3. Обозначение остановок маршрутных транспортных средств.

**214. Каким транспортным средствам разрешено движение по правой полосе проезжей части?**



1. Всем механическим транспортным средствам.
2. Транспортным средствам общего пользования и такси.
3. Только велосипедам.
4. Только маршрутным транспортным средствам.

### **Правила пользования транспортом**

**215. В каком ответе наиболее полно указаны места, где пассажиры должны ожидать автобус при отсутствии посадочной площадки?**

1. На проезжей части или тротуаре.
2. На тротуаре.
3. На обочине или проезжей части.
4. На тротуаре или обочине.

**216. Где нужно ожидать трамвая при отсутствии площадки?**

1. На тротуаре.
2. На проезжей части не дальше одного метра от рельс.
3. На проезжей части не дальше одного метра от тротуара.

**217. В каком случае разрешается посадка и высадка пассажиров со стороны проезжей части?**

1. При вынужденной остановке транспортного средства.
2. По усмотрению водителя при условии, что это будет безопасно и не создает помех другим участникам движения.
3. Если это невозможно сделать со стороны тротуара или обочины и при условии, что это будет безопасно и не создает помех другим участникам движения.
4. На дорогах с односторонним движением, имеющих две полосы или более.

**218. Когда можно выходить на проезжую часть для посадки в трамвай на трамвайных остановках, не оборудованных посадочными площадками?**

1. При приближении трамвая.
2. После полной остановки трамвая.
3. В любом случае.
4. При приближении трамвая, если на проезжей части нет транспортных средств.

**219. Разрешается ли пассажирам во время движения отвлекать водителя маршрутного транспортного средства от управления?**

1. Разрешается.
2. Разрешается только для покупки разовых талонов.
3. Запрещается.

**220. Разрешается ли стоять пассажирам общественного транспорта во время движения?**

1. Разрешается при отсутствии свободных мест.
2. Разрешается при движении со скоростью не более 40 км/ч.
3. Запрещается.
4. Разрешается.

**221. Как должны поступить пассажиры после выхода из трамвая на остановке?**

1. Во всех случаях немедленно перейти на тротуар.
2. Перейти на тротуар, если остановка не оборудована посадочной площадкой.
3. Если остановка не оборудована посадочной площадкой, с соблюдением мер предосторожности перейти на тротуар.

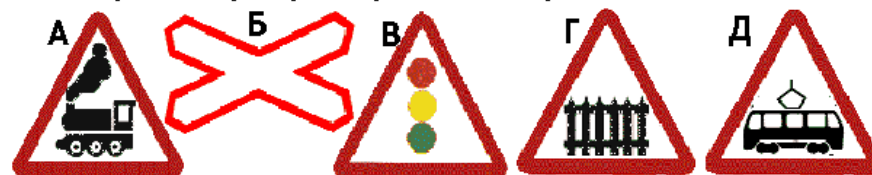


**222. Сколько человек нарушает правила поведения в общественном транспорте?**

1. Шесть человек.
2. Четыре человека.
3. Три человека.
4. Двенадцать человек.

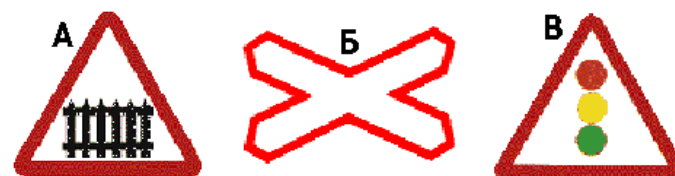
### На железной дороге

**223. Какие знаки предупреждают о приближении к железнодорожному переезду со шлагбаумом?**



1. Все знаки.
2. А и Б.
3. А и Д.
4. В и Г.
5. Г.

**224. Какой из знаков устанавливается непосредственно перед железнодорожным переездом?**



1. А.
2. Б.
3. В.
4. А и Б.

**225. Сигналом общей тревоги на железнодорожном переезде служат серии из:**

1. Двух длинных и двух коротких сигналов.
2. Одного длинного и трех коротких сигналов.
3. Трех длинных и трех коротких сигналов.
4. Трех длинных и одного короткого сигнала.

**226. Сигналом остановки поезда служит:**

1. Круговое движение руки (днем с лоскутом яркой материи или каким-либо хорошо видимым предметом, ночью — с факелом или фонарем).
2. Поднятая над головой рука с жезлом или красным флагом.
3. Вытянутая вперед рука.
4. Покачивание вверх и вниз вытянутой вперед рукой.

**227. Где разрешается пешеходам пересекать железнодорожные пути?**

1. На переезде, а при его отсутствии — в местах, где видимость в обоих направлениях не менее 1000 м.
2. В местах, наиболее удобных с точки зрения пешехода.
3. Только на железнодорожных переездах.
4. Не ближе 1000 м от железнодорожной станции.

**Движение по загородной дороге**

**228. Где должны идти пешеходы вне населенного пункта по дороге с разделительной полосой, если по обочине идти невозможно?**

1. По внешнему краю проезжей части по ходу движения транспортных средств.
2. По внутреннему краю проезжей части против движения транспортных средств.
3. По внешнему краю проезжей части против движения транспортных средств.

**229. Как переходить дорогу вне населенного пункта?**

1. Перпендикулярно краю дороги.
2. Произвольно.
3. В местах, где дорога просматривается в обе стороны.
4. В местах, где дорога просматривается в обе стороны, и перпендикулярно к краю дороги.

**230. Где должен идти мотоциклист вне населенного пункта, если он ведет мотоцикл руками?**

1. По правой обочине или по правому краю проезжей части.
2. По левой обочине или по левому краю проезжей части.
3. Можно по любой обочине.

**Дорожные «ловушки»**

**231. Чем опасен кустарник, растущий у дороги?**

1. Ничем.
2. За ним могут прятаться хулиганы.
3. Он закрывает обзор дороги в одну сторону, пешеход не видит транспортные средства.
4. Осенью опадающая листва удлиняет тормозной путь.



**232. Как правильно должен поступить пешеход в показанной ситуации?**


1. Остановиться и пропустить автомобиль.
2. Спокойно двигаться дальше.
3. Бегом пробежать арку ворот.
4. Убедиться, что автомобиль уступает дорогу, и продолжать движение.



**233. Как переходить дорогу в данной ситуации?**

1. Дождаться, пока грузовик уедет, и только после этого переходить дорогу.
2. Быстро перебежать дорогу.
3. Осторожно начать переход, глядя влево. Поравнявшись с грузовиком, приостановиться, выглянуть, не скрывается ли за ним другой автомобиль.

**234. На каком рисунке показаны опасные ситуации при переходе дороги?**



1. А.
2. А и Б.
3. В.
4. А, Б и В.


**235. Какие меры предосторожности должен принять пешеход, начиная переход дороги между стоящими автомобилями?**

1. Переходить дорогу медленно.
2. Переходить дорогу быстрее.
3. Убедиться, что нет приближающихся транспортных средств.

**236. Как безопасно поступить пешеходу в данной ситуации?**




1. Выйти из-за кустов и строения, внимательно осмотреть дорогу.
2. Быстро перебежать дорогу.
3. Если это возможно, отойти на расстояние от строения и кустарников, чтобы был хороший обзор дороги.



**237. Какое правило безопасности не выполнил пешеход в данной ситуации?**


1. Он выполнил все правила.
2. Дорога должна просматриваться в обе стороны.
3. Переходить дорогу только по пешеходному переходу.



**238. Какую ошибку допускают мальчики при переходе дороги?**

1. Переходят дорогу втроем.
2. Ошибки не допускают.
3. Невнимательны при переходе дороги.

**239. Какую ошибку допускает мальчик при переходе дороги?**




1. Перебегает дорогу.
2. Переходит дорогу наискосок.
3. Переходит дорогу перед близко идущим транспортным средством.
4. Все вышеперечисленные ошибки.



**240. На этом участке переходить дорогу опасно?**

1. Да.
2. Нет.

**241. Как безопаснее поступить пешеходу в данной ситуации?**




1. Быстро перебежать дорогу.
2. Пропустить транспортные средства, движущиеся с левой стороны, и перебежать дорогу.
3. Пропустить все транспортные средства и осторожно перейти дорогу.

**242. Как безопасно переходить дорогу, выйдя из автобуса?**


1. Сзади автобуса.
2. Спереди автобуса.
3. Дождаться, когда автобус отойдет от остановки на достаточное расстояние, и перейти дорогу.

**243. Как наиболее безопасно перейти дорогу в этой ситуации?**



1. Дойти до края кустарников, убедиться, что на проезжей части вблизи нет движущихся транспортных средств, и после этого переходить дорогу.
2. Перебежать дорогу по пешеходному переходу.
3. Спокойно переходить дорогу, пешеходный переход дает пешеходу преимущество.

**244. Какой автомобиль представляет для пешехода наибольшую опасность?**



1. Легковой автомобиль № 1.
2. Грузовик.
3. Легковой автомобиль № 2.
4. Грузовик и легковой автомобиль № 2.

**245. Как правильно и безопасно перейти дорогу, если на проезжей части не видно машин?**

1. Остановиться у края проезжей части, посмотреть налево и направо и только после этого — переходить, продолжая наблюдать.
2. Машин нет — значит можно переходить.
3. Быстро перебежать дорогу, пока на проезжей части нет машин.

**246. На тротуаре ведутся ремонтные работы. Как безопасно поступить в этой ситуации?**

1. Продолжить движение по краю проезжей части.
2. Заблаговременно перейти на противоположную сторону улицы и идти по тротуару.

**247. К нерегулируемому пешеходному переходу медленно движется грузовик. Ты намерен перейти проезжую часть. Как сделать это наиболее безопасно?**

1. Перейти проезжую часть. Переход дает пешеходу преимущество.
2. Подождать, пока грузовик проедет. Он может скрывать за собой более быструю машину.

**248. Какие «бытовые» привычки опасны на дороге?**

1. Болтать во время движения.
2. Внезапно выбегать из-за кустов, из-за угла дома или из-за других препятствий.
3. Оглядываться на оклик товарища.
4. Все вышеперечисленные привычки — не для дороги.

**249. Чем опасна такая ситуация?**

1. Из-за музыки можно не услышать, как приближается автомобиль.
2. Пешеход не наблюдает за дорогой.
3. Проехавшая машина может облить водой из лужи.
4. Верны п. 1 и 2.
5. Все вышеперечисленное верно.



**250. К противоположной стороне улицы подъезжает «твой» автобус. Твои действия?**

1. побыстрее перебежать дорогу, чтобы успеть на автобус.
2. Остановиться, посмотреть налево и направо и только после этого переходить дорогу, продолжая наблюдать.

**251. Безопасно ли ведут себя мальчики?**

1. Да, безопасно.
2. Нет, не безопасно.



**252. Что делать, если во время перехода уронил какой-то предмет?**

1. Быстро поднять предмет и продолжить движение.
2. Сначала посмотреть в обе стороны. Поднять предмет, только убедившись, что опасности нет.

**253. Ты подошел к перекрестку. На светофоре горит зеленый сигнал. Как долго — ты не знаешь. Как безопаснее поступить в этой ситуации?**

1. Перейти дорогу, соблюдая обычные меры предосторожности. Если во время перехода загорится красный сигнал — переждать на осевой.
2. Быстро перебежать через проезжую часть.
3. Дождаться следующего зеленого сигнала.

**254. На нерегулируемом пешеходном переходе пешеход пропустил грузовик. Больше машин не видно. Можно ли переходить?**

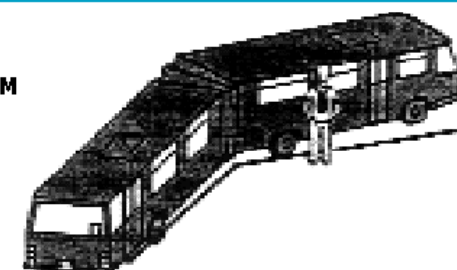
1. Да, можно.
2. Нет, нельзя.
3. Лучше подождать, пока грузовик отъедет подальше и не будет закрывать обзор.

**255. В сумерки или в темное время безопаснее, если ты одет...**

1. В темную одежду.
2. В светлую одежду или одежду со световозвращающими вставками.

**256. Опасно ли стоять в этом месте?**

1. Да, опасно.
2. Нет, не опасно.




**257. Чем опасно такое действие?**

1. Пешеход сконцентрирован на «своем» автобусе, невнимательно наблюдает и может не увидеть приближающийся автомобиль.
2. Автобус может внезапно поехать.
3. Стоящий автобус загораживает витрину магазина.



**258. Какое правило безопасности не выполнил мальчик?**

1. Остановился на осевой линии.
2. Не успел перейти дорогу за один прием.
3. Отступает назад, не глядя, что происходит у него за спиной.
4. Не видит автомобиля, приближающегося справа.





**259. Какие правила безопасности нужно соблюдать при переходе проезжей части?**

1. Не отвлекаться.
2. Внимательно наблюдать за дорогой.
3. Не бежать через дорогу.
4. Все вышеперечисленные правила.

**260. Как ты будешь переходить дорогу, если опаздываешь?**

1. Шагом.
2. Бегом.
3. Шагом, предварительно приостановившись для наблюдения.

**261. Какие дополнительные сложности необходимо учитывать в дождливую погоду?**

1. У транспортных средств удлиняется тормозной путь.
2. Ухудшается видимость.
3. Пешеходу видеть дорогу мешает зонт или капюшон.
4. Водители могут объезжать лужи, меняя траекторию движения.
5. Все вышеперечисленное верно.

**262. Можно ли оглядываться на оклик товарища при переходе через проезжую часть?**

1. Можно.
2. Нельзя.

**263. Чем коварна улица с реверсивным движением?**

1. Ничем.
2. Создается впечатление, что движение по ней одностороннее.
3. В моменты смены направления движения она может производить впечатление пустынной.
4. Машина может появиться неожиданно с любой стороны.
5. Верны п. 2, 3.
6. Верны п. 2, 3, 4.

**264. Безопасно ли начинать переход при зеленом мигающем сигнале светофора?**

1. Безопасно, так как горит разрешающий сигнал.
2. Небезопасно, так как к перекрестку может подъезжать машина, водитель которой попытается преодолеть перекресток с ходу.
3. Небезопасно, так как запрещающий сигнал может застать на проезжей части.
4. Верны п. 1 и 2.



**Правильные ответы на вопросы по Правилам дорожного движения**

	10.2;	20.2;	30.3;	40.1;	50.1;	60.2;	70.3;	80.1;	90.2;
1.2;	11.3;	21.2;	31.1;	41.2;	51.3;	61.3;	71.2;	81.1;	91.3;
2.3;	12.3;	22.4;	32.1;	42.4;	52.2;	62.3;	72.1;	82.1;	92.2;
3.2;	13.3;	23.3;	33.1;	43.2;	53.2;	63.2;	73.3;	83.2;	93.2;
4.2;	14.3;	24.3;	34.2;	44.3;	54.1;	64.2;	74.3;	84.2;	94.2;
5.3;	15.3;	25.3;	35.1;	45.2;	55.2;	65.3;	75.3;	85.3;	95.1;
6.3;	16.1;	26.2;	36.2;	46.1;	56.2;	66.3;	76.3;	86.2;	96.3;
7.1;	17.3;	27.1;	37.2;	47.2;	57.2;	67.2;	77.1;	87.1;	97.1;
8.3;	18.1;	28.2;	38.1;	48.1;	58.2;	68.4;	78.2;	88.5;	98.1;
9.1;	19.2;	29.3;	39.2;	49.2;	59.2;	69.2;	79.3;	89.1;	99.2;
100.2;	10.1;	120.3;	130.1;	140.2;	150.2;	160.1;	170.1;	180.2;	190.2;
101.2;	111.2;	121.2;	131.4;	141.3;	151.3;	161.2;	171.2;	181.2;	191.1;
102.3;	112.2;	122.3;	132.2;	142.2;	152.2;	162.1;	172.3;	182.1;	192.1;
103.3;	113.2;	123.2;	133.2;	143.1;	153.3;	163.2;	173.3;	183.3;	193.1;
104.2;	114.3;	124.1;	134.2;	144.2;	154.1;	164.2;	174.3;	184.3;	194.3;
105.3;	115.1;	125.1;	135.1;	145.1;	155.1;	165.2;	175.2;	185.3;	195.1;
106.2;	116.1;	126.3;	136.4;	146.5;	156.2;	166.2;	176.2;	186.3;	196.3;
107.3;	117.1;	127.4;	137.3;	147.4;	157.2;	167.2;	177.3;	187.4;	197.3;
108.4;	118.1;	128.3;	138.4;	148.1;	158.1;	168.2;	178.1;	188.3;	198.2;
109.2;	119.2;	129.1;	139.2;	149.3;	159.1;	169.4;	179.3;	189.2;	199.3;
200.1;	210.2;	220.4;	230.1;	240.1;	250.2;	260.3;			
201.3;	211.3;	221.3;	231.3;	241.3;	251.2;	261.5;			
202.2;	212.2;	222.3;	232.4;	242.3;	252.2;	262.2;			
203.1;	213.3;	223.5;	233.3;	243.1;	253.3;	263.6;			
204.4;	214.4;	224.2;	234.4;	244.3;	254.3;	264.4.			
205.2;	215.4;	225.2;	235.3;	245.1;	255.2;				
206.1;	216.1;	226.1;	236.3;	246.2;	256.1;				
207.2;	217.3;	227.1;	237.2;	247.2;	257.1;				
208.4;	218.2;	228.3;	238.3;	248.4;	258.3;				
209.3;	219.3;	229.4;	239.4;	249.4;	259.4;				